

DANS CE CADRE	Académie :	Session :
	Examen :	Série :
	Spécialité/option :	Repère de l'épreuve :
	Épreuve/sous-épreuve :	
	NOM :	
	(en majuscule, suivi s'il y a lieu, du nom d'épouse)	
NE RIEN ÉCRIRE	Prénoms :	N° du candidat <input type="text"/>
	Né(e) le :	
	-----	
	Appréciation du correcteur	
<input type="text"/>		
Note :		

*Il est interdit aux candidats de signer leur composition ou d'y mettre un signe quelconque pouvant indiquer sa provenance.*

# CERTIFICAT D'APTITUDE PROFESSIONNELLE

- SPÉCIALITÉ MAREYAGE -

ÉPREUVE EP1 - TECHNOLOGIE

- Session 2025 -

\*\*\*

Durée : 1 heure

Coefficient : 2

Ce sujet comporte 8 pages numérotées de 1/8 à 8/8.

Assurez-vous que cet exemplaire est complet.

S'il est incomplet, demandez un autre exemplaire au chef de salle.

**Le sujet doit être rendu dans son intégralité.**

**Aucun autre document n'est autorisé.**

L'usage de calculatrice avec mode examen actif est autorisé.

L'usage de calculatrice sans mémoire, « type collègue » est autorisé.

<b>CAP MAREYAGE</b>	Code : 25-CAP-MAR-EP1B-ME1	Session 2025	SUJET
Épreuve : EP1 Technologie	Durée : 1 H	Coefficient : 2	Page 1 sur 8

# NE RIEN ÉCRIRE DANS CETTE PARTIE



## PREMIER PORT DE PÊCHE FRANÇAIS

Boulogne-sur-Mer est le premier port de pêche de France grâce à sa localisation dans le détroit du Pas-de-Calais, à la jonction de deux mers poissonneuses, la Mer du Nord et la Manche.

**Chaque année, 35 000 tonnes de poissons sont débarquées à la criée boulonnaise pour un chiffre d'affaires autour des 80 millions d'euros.**

L'espèce la plus pêchée par les bateaux boulonnais est le merlan. On retrouve également bar, cabillaud, plie, turbot, sole, tourteau, moule ou coque. Au total, 70 espèces différentes sont débarquées chaque année à Boulogne-sur-Mer.

La flottille de pêche boulonnaise est constituée de 4 chalutiers industriels de pêche fraîche, 3 chalutiers de pêche surgélateurs, 51 navires de pêche artisanale et approximativement 65 bateaux de pêche côtière.

## PREMIER CENTRE EUROPÉEN DE TRANSFORMATION DES PRODUITS DE LA MER

L'enceinte du port de pêche abrite la zone Capécure, premier centre européen de transformation, de commercialisation et de distribution des produits de la mer, avec **380 000 tonnes de produits transformés chaque année.**

### Capécure

La zone de Capécure est une enceinte qui regroupe près d'une centaine d'entreprises dont les activités sont regroupées sur un même lieu et en interconnexion : l'armement, l'écorage, le mareyage-filetage, le négoce, la cuisson de crevettes, la conserverie, les plats cuisinés et élaborés, la saurisserie et la salaison, mais aussi le conditionnement, les entrepôts frigorifiques, les transports, la recherche-formation et la valorisation des produits associés.

### La Criée

La criée est le centre névralgique du débarquement du poisson et de la vente informatisée des produits de la mer.

### Port de plaisance

C'est le seul port de la Côte d'Opale avec accès direct à la mer, entre Ostende en Belgique et Saint-Valéry-sur-Somme, au sud.

Situé en centre-ville, le port de plaisance dispose de 500 places réparties en trois bassins. Avec l'aménagement en cours du bassin Napoléon qui sera terminé en mai 2018, 100 anneaux supplémentaires seront créés.

CAP MAREYAGE	Code : 25-CAP-MAR-EP1B-ME1	Session 2025	SUJET
Épreuve : EP1 Technologie	Durée : 1 H	Coefficient : 2	Page 2 sur 8

# NE RIEN ÉCRIRE DANS CETTE PARTIE

1) Qu'est-ce qu'un quota de pêche ?

.....  
.....  
.....  
.....

2) Proposer une définition d'un poisson pélagique :

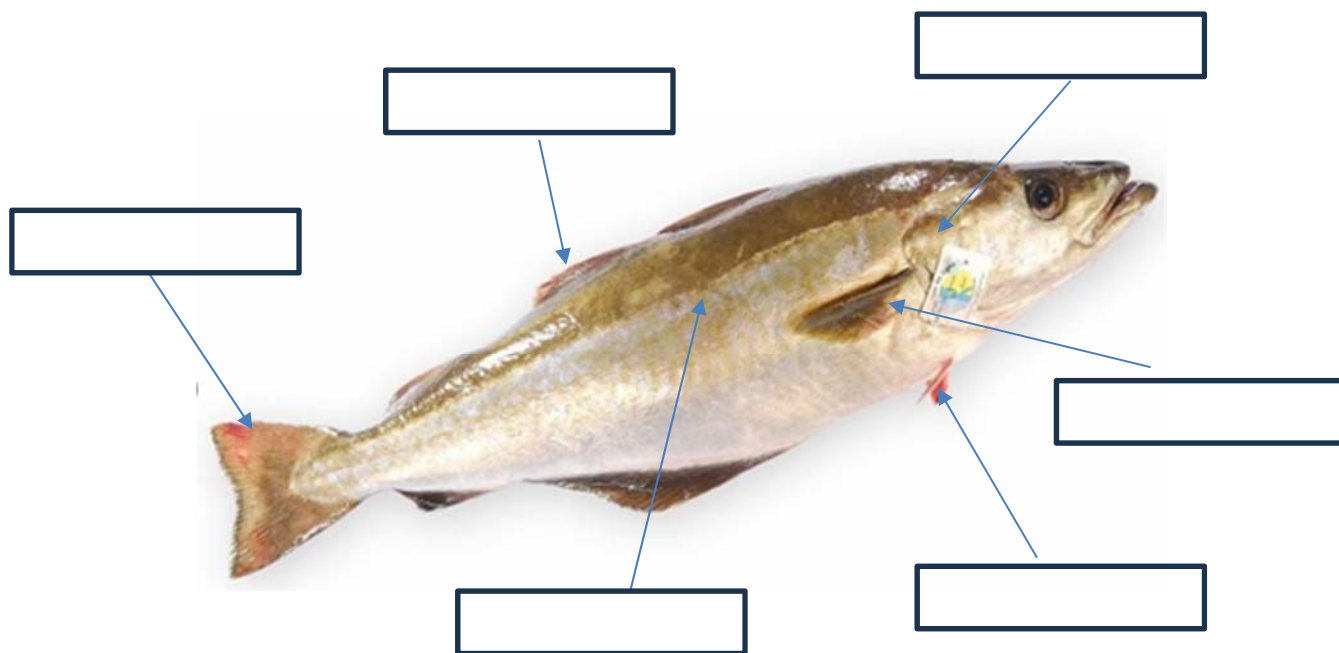
.....  
.....  
.....  
.....

3) Entourer et citer les espèces capturées par un chalut pélagique :



## NE RIEN ÉCRIRE DANS CETTE PARTIE

4) Sur la photo du poisson ci-dessous, replacer les caractères distinctifs à l'aide des flèches et nommer l'espèce :



5) Citer la famille des espèces ci-dessous :

- Le lieu noir
- Le maquereau
- Le carrelet
- La sébaste

CAP MAREYAGE	Code : 25-CAP-MAR-EP1B-ME1	Session 2025	SUJET
Épreuve : EP1 Technologie	Durée : 1 H	Coefficient : 2	Page 4 sur 8

## NE RIEN ÉCRIRE DANS CETTE PARTIE





6) Lesquels de ces animaux sont des céphalopodes ? (*Entourer les bonnes réponses*)



7) À quelle zone de pêche correspond la FAO27 ?

.....  
 .....


8) Indiquer les tailles minimales de capture des espèces ci-dessous et le nom :


	NOM	Taille
	→ <input style="width: 100%; height: 30px; border: 1px solid black;" type="text"/>	→ <input style="width: 100%; height: 30px; border: 1px solid black;" type="text"/>
	→ <input style="width: 100%; height: 30px; border: 1px solid black;" type="text"/>	→ <input style="width: 100%; height: 30px; border: 1px solid black;" type="text"/>
	→ <input style="width: 100%; height: 30px; border: 1px solid black;" type="text"/>	→ <input style="width: 100%; height: 30px; border: 1px solid black;" type="text"/>
	→ <input style="width: 100%; height: 30px; border: 1px solid black;" type="text"/>	→ <input style="width: 100%; height: 30px; border: 1px solid black;" type="text"/>


## NE RIEN ÉCRIRE DANS CETTE PARTIE

09) Citer le nom scientifique des espèces suivantes :

- Coquille St-Jacques 

- Tacaud 

- Lieu noir 

- Cabillaud 

10) À quelle température doit-être conservé le poisson dans les chambres froides ?  
(Entourer la bonne réponse) :

- - 2 à 4°
- 2 à 4°
- 0 à 2°
- - 2 à 2°

11) Quelles types d'altérations pouvons-nous trouver sur les poissons ? (Entourer la bonne réponse) :

- Marqués, abîmés, éviscérés.
- Grattés, marqués, blessés.
- Transpercés, mort, grattés.
- Coupés, grattés, mort.

CAP MAREYAGE	Code : 25-CAP-MAR-EP1B-ME1	Session 2025	SUJET
Épreuve : EP1 Technologie	Durée : 1 H	Coefficient : 2	Page 6 sur 8

## NE RIEN ÉCRIRE DANS CETTE PARTIE

12) Quelle forte odeur se dégage des produits cartilagineux en état de décomposition ?  
(Entourer la bonne réponse) :

- Une odeur de soufre
- Une odeur d'ammoniac
- Une odeur de moutarde
- Une odeur de péritoine

13) Comment calcul-t-on un rendement matière ?

- Poids brut x Poids net
- Poids net ÷ Poids brut
- Poids brut ÷ Poids net
- Poids net x Poids brut

14) Lorsqu'un poisson est élevé y a-t-il une taille minimale légale ?

- OUI
- NON

15) Citer 6 équipements de votre tenue professionnelle :

- ..... -  
- ..... -  
- ..... -

CAP MAREYAGE	Code : 25-CAP-MAR-EP1B-ME1	Session 2025	SUJET
Épreuve : EP1 Technologie	Durée : 1 H	Coefficient : 2	Page 7 sur 8

# NE RIEN ÉCRIRE DANS CETTE PARTIE

16) Entourer et nommer les poissons cartilagineux :



.....



.....



.....



.....



.....



.....

17) Lors de la réception de 30 coffres de sébaste dans votre atelier quelles étapes devez-vous suivre ?

- .....
- .....
- .....
- .....
- .....
- .....
- .....
- .....